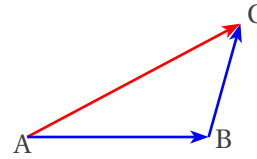


~ COURS ~
FORMULAIRE DE GÉOMÉTRIE (VERSION 4)

- Pour tous points A, B et C on a

Chasles : $\vec{AB} + \vec{BC} = \vec{AC}$



- Dans un **triangle ABC rectangle** en A on a :

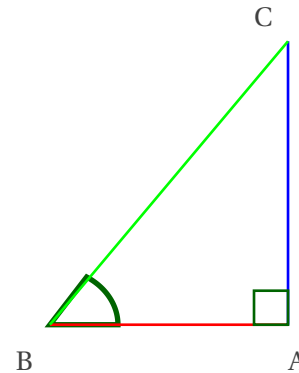
Pythagore : $BC^2 = AB^2 + AC^2$

Trigonométrie : $\cos(\hat{B}) = \frac{\text{côté adjacent}}{\text{hypothénuse}} = \frac{AB}{BC}$

$\sin(\hat{B}) = \frac{\text{côté opposé}}{\text{hypothénuse}} = \frac{AC}{BC}$

Produit Scalaire : $\vec{AB} \cdot \vec{AC} = 0$ car $\hat{A} = 90^\circ$

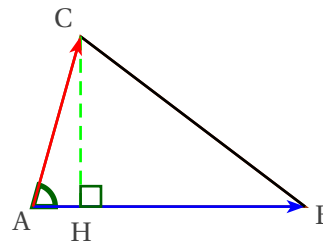
Aire = $\frac{AB \times AC}{2}$ (demi-rectangle)



- Dans un **triangle ABC quelconque** on a :

Aire = $\frac{\text{Base} \times \text{Hauteur}}{2} = \frac{AB \times CH}{2}$

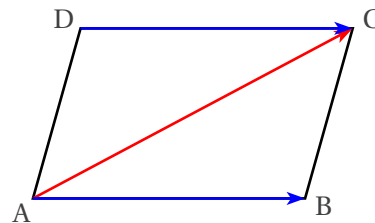
= $\frac{1}{2} \|\vec{AB} \wedge \vec{AC}\|$



- Dans un **parallélogramme ABCD** on a :

$\vec{AB} = \vec{DC}$

Aire = $\|\vec{AB} \wedge \vec{AC}\|$



On se place désormais dans l'espace muni d'un repère $(O; \vec{i}, \vec{j}, \vec{k})$.

- **Deux vecteurs sont colinéaires** (de même direction) si et seulement si leurs coordonnées sont **proportionnelles**.
- **Deux droites (AB) et (CD) sont parallèles** si et seulement si les coordonnées des vecteurs \vec{AB} et \vec{CD} sont **proportionnelles**.
- **Trois points A, B et C sont alignés** si et seulement si les coordonnées des vecteurs \vec{AB} et \vec{AC} sont **proportionnelles**.
- ABCD **est un parallélogramme** si et seulement si $\vec{AB} = \vec{DC}$

- Soient deux points $A(x_A; y_A; z_A)$ et $B(x_B; y_B; z_B)$ et I le milieu du segment $[AB]$ alors :

$$\vec{AB} \begin{pmatrix} x_B - x_A \\ y_B - y_A \\ z_B - z_A \end{pmatrix} \quad \text{et} \quad I \left(\frac{x_A + x_B}{2}; \frac{y_A + y_B}{2}; \frac{z_A + z_B}{2} \right)$$

- Si le repère est orthonormé et $\vec{AB} \begin{pmatrix} x \\ y \\ z \end{pmatrix}$ alors la norme du vecteur \vec{AB} est $\|\vec{AB}\| = AB = \sqrt{x^2 + y^2 + z^2}$
- Le produit scalaire de \vec{AB} et \vec{F} est le travail d'une force constante \vec{F} sur le déplacement \vec{AB} . C'est un nombre. Pour calculer le produit scalaire $\vec{AB} \cdot \vec{AC}$ on dispose de trois méthodes :

— Avec les coordonnées : si $\vec{AB} \begin{pmatrix} x \\ y \\ z \end{pmatrix}$ et $\vec{AC} \begin{pmatrix} x' \\ y' \\ z' \end{pmatrix}$ alors $\vec{AB} \cdot \vec{AC} = xx' + yy' + zz'$

— Avec deux distances et un angle : $\vec{AB} \cdot \vec{AC} = AB \times AC \times \cos(\hat{A})$

— Avec H, le projeté orthogonal de C sur la droite (AB) :

$$\vec{AB} \cdot \vec{AC} = +AB \times AH \quad \text{Si le travail de } \vec{AC} \text{ sur } \vec{AB} \text{ est } \mathbf{moteur}, \text{ c'est un nombre } \mathbf{positif}$$

$$= -AB \times AH \quad \text{Si le travail de } \vec{AC} \text{ sur } \vec{AB} \text{ est } \mathbf{résistant}, \text{ c'est un nombre } \mathbf{négatif}$$

Dans le plan, toutes les formules précédentes sont les mêmes, à ceci près qu'il faut enlever tout ce qui concerne la troisième coordonnée z .

- Le produit vectoriel de deux vecteurs de l'espace \vec{AB} et \vec{F} est le moment d'une force \vec{F} appliquée en B, par rapport au point A. C'est un vecteur.

Il traduit l'aptitude d'une force \vec{F} appliquée en B, à faire tourner un système mécanique autour du point A.

Si $\vec{AB} \begin{pmatrix} x \\ y \\ z \end{pmatrix}$ et $\vec{AC} \begin{pmatrix} x' \\ y' \\ z' \end{pmatrix}$ alors :

$$\vec{AB} \wedge \vec{AC} \begin{pmatrix} yz' - zy' \\ x'z - z'x \\ xy' - yx' \end{pmatrix}$$

On sait également que la norme du vecteur $\vec{AB} \wedge \vec{AC}$ vaut

$$\|\vec{AB} \wedge \vec{AC}\| = AB \times AC \times |\sin(\hat{A})|$$