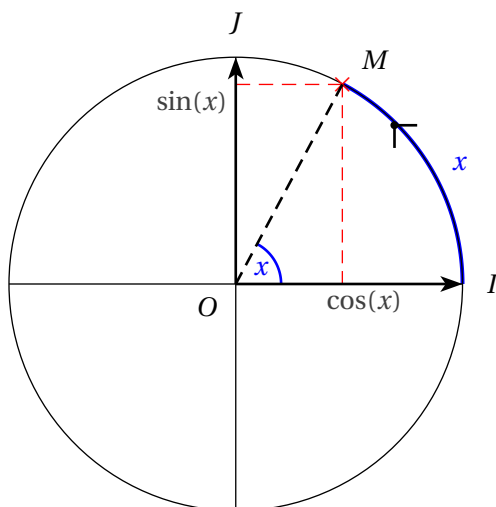


Remarques :

- On a évidemment :

$$(\vec{u}; \vec{v}) = (\vec{OA}; \vec{OB}) = (\vec{OA}'; \vec{OB}') = (\vec{OA}; \vec{OB}') \dots$$

- Les mesures de $(\vec{OA}; \vec{OB})$ sont en fait les mesures en radians de l'angle orienté \widehat{AOB} , mais cette nouvelle définition nous permet de savoir que l'unité est le radian, et que l'on tient compte de l'orientation du plan, sans le préciser à chaque fois. De plus, elle va s'avérer très pratique pour les manipulations algébriques.



Angle θ	0	$\frac{\pi}{6}$	$\frac{\pi}{4}$	$\frac{\pi}{3}$	$\frac{\pi}{2}$	π
$\cos \theta$
$\sin \theta$



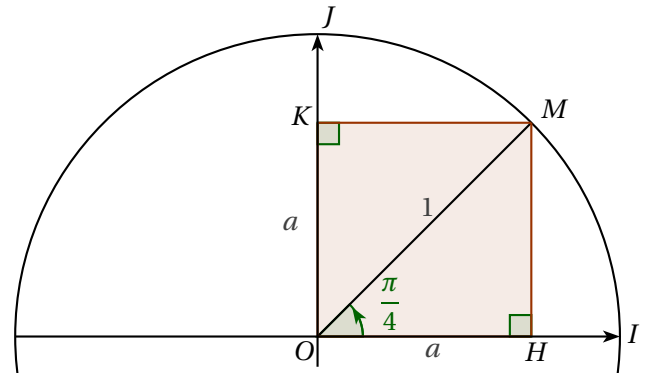
Preuve

Pour calculer les valeurs de $\sin \frac{\pi}{4}$ et de $\cos \frac{\pi}{4}$ on se place dans le quadrilatère $OHKM$ ci-contre, de diagonale $OM = 1$.

On sait que $OHKM$ est un carré, car il possède 4 angles droits et que l'angle $(\vec{OH}; \vec{OM})$ mesure $\frac{\pi}{4}$.

On appelle a la mesure de son côté.

Par définition du cosinus et sinus d'un nombre réel, on a $a = \cos \frac{\pi}{4} = \sin \frac{\pi}{4}$. Cherchons cette valeur.



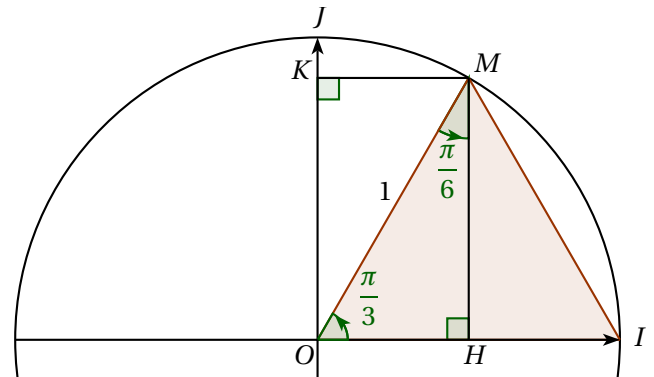
Dans le triangle OHM rectangle en H , d'après le théorème de Pythagore, on a :

Donc $\cos \frac{\pi}{4} = \sin \frac{\pi}{4} = \dots\dots$

Pour calculer les valeurs du cosinus et du sinus de $\frac{\pi}{3}$ et $\frac{\pi}{6}$, on se place dans le triangle OIM ci-contre, de côté $OM = 1$.

On cherche $OH = \cos \frac{\pi}{3}$ et $OK = \sin \frac{\pi}{3}$.

On sait que le triangle OIM est équilatéral car $OM = OI$ et que $(\vec{OH}; \vec{OM})$ mesure $\frac{\pi}{3}$.



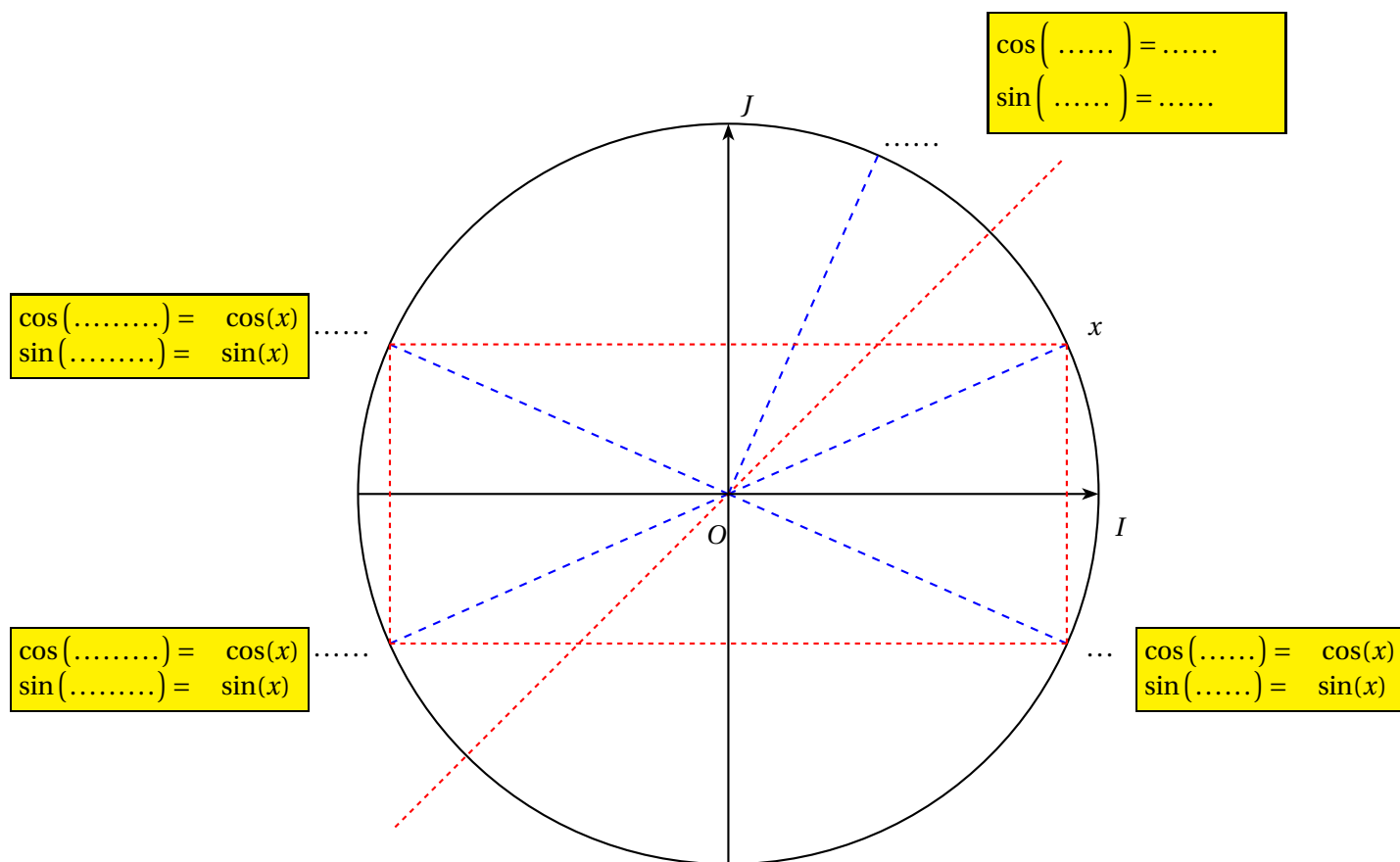
Donc sa hauteur $[MH]$ est aussi sa médiane. D'où H est le milieu de $[OI]$ et $OH = \cos \frac{\pi}{3} = \dots\dots$

De plus, d'après le théorème de Pythagore dans le triangle OHM rectangle en H on a :

Donc $\sin \frac{\pi}{3} = \dots\dots$

De plus la hauteur $[MH]$ du triangle OIM est aussi sa bissectrice donc $(\vec{MO}; \vec{MI}) = \frac{\pi}{6} [2\pi]$.

On en déduit dans le triangle OHM rectangle en H que $\cos \frac{\pi}{6} = \dots\dots = \dots\dots$ et $\sin \frac{\pi}{6} = \dots\dots = \dots\dots$



Exemple :

Grâce aux angles associés, trouver les valeurs des cosinus et sinus des angles suivants :

- | | | | |
|------------------|-------------------|-------------------|-------------------|
| $\frac{3\pi}{4}$ | $\frac{5\pi}{4}$ | $-\frac{\pi}{4}$ | $\frac{7\pi}{4}$ |
| $-\frac{\pi}{3}$ | $\frac{2\pi}{3}$ | $-\frac{2\pi}{3}$ | $\frac{5\pi}{3}$ |
| $\frac{5\pi}{6}$ | $\frac{11\pi}{6}$ | $-\frac{\pi}{6}$ | $-\frac{5\pi}{6}$ |

