

EXERCICES : TRIGONOMETRIE

Exercice 1 :

- Convertir en radians les mesures d'angles exprimées en degrés : 72° , 105° , 50° et 44°
- Convertir en degrés les mesures d'angles exprimées en radians : $\frac{7\pi}{24}$, $-\frac{5\pi}{18}$, $\frac{\pi}{9}$ et $-\frac{2\pi}{5}$

Exercice 2 : Sans calculatrice, dire si les réels suivants sont des mesures principales en radians d'angles orientés

$$\frac{7\pi}{5} \quad -\frac{13\pi}{5} \quad \frac{\pi}{4} \quad -\frac{3\pi}{4} \quad \frac{3\pi}{2} \quad -\frac{2\pi}{3} \quad -\frac{7\pi}{6} \quad \frac{37\pi}{36}$$

Exercice 3 : MNP est un triangle équilatéral direct, ie tel que $(\vec{MN}, \vec{MP}) = +\frac{\pi}{3}$ et I est le milieu de [NM].

Faire un schéma de la situation puis lire graphiquement une mesure de chacun des angles ci-dessous :

$$(\vec{PN}, \vec{PM}) \quad (\vec{MN}, \vec{PN}) \quad (\vec{NM}, \vec{MP}) \quad (\vec{PN}, \vec{PI})$$

Exercice 4 : ABCD est un carré de centre O direct, ie que si on tourne autour du carré sur son cercle circonscrit dans le sens direct, on trouve dans l'ordre nommés les sommets, ou encore on a $(\vec{AB}, \vec{AD}) = +\frac{\pi}{2}$.
Faire un schéma de la situation puis lire graphiquement :


- Deux mesure de l'angle (\vec{AB}, \vec{AC})
- les mesures principales des angles

$$\begin{array}{ccccc} (\vec{CD}, \vec{CA}) & (\vec{BC}, \vec{OB}) & (\vec{DO}, \vec{AC}) & (\vec{OA}, \vec{AC}) & (\vec{BA}, \vec{CD}) \\ (\vec{OB}, \vec{AD}) & (\vec{OC}, \vec{OB}) & (\vec{OC}, \vec{OA}) & (\vec{DA}, \vec{CO}) & \end{array}$$


Exercice 5 : ABCD est un carré tel que $(\vec{AB}, \vec{AD}) = \frac{\pi}{2}$
AEB et BCF sont des triangles équilatéraux tels que $(\vec{EA}, \vec{EB}) = \frac{\pi}{3}$ et $(\vec{FC}, \vec{FB}) = \frac{\pi}{3}$
On se propose de démontrer que les points D, E et F sont alignés en utilisant les angles orientés

- Faire un schéma de la situation.
- Démontrer que le triangle ADE est isocèle
 - Démontrer que $(\vec{ED}, \vec{EA}) = \frac{5\pi}{12}$
- Déterminer une mesure de (\vec{BE}, \vec{BF}) et en déduire une mesure de (\vec{EB}, \vec{EF})
- Utiliser la relation de Chasles pour calculer une mesure de (\vec{ED}, \vec{EF})
 - Que peut-on en déduire sur les points D, E et F ?

Exercice 6 : A, B, C et D sont des points tels que : $(\vec{AB}, \vec{AC}) = -\frac{\pi}{12} \quad [2\pi]$ et $(\vec{AB}, \vec{AD}) = \frac{5\pi}{12} \quad [2\pi]$.
Démontrer que ACD est rectangle.

 **Exercice 7** : Exprimer à l'aide de $\sin(x)$ et $\cos(x)$ les expressions suivantes :

- $A = \cos(x + \pi) - \cos(-x) + 5 \cos(x)$
- $B = \sin(\pi - x) + 2 \sin(x + 2\pi) + \sin(x + 3\pi)$
- $C = \sin(\pi + x) \cos(\pi - x) - \sin(\pi - x) \cos(\pi + x)$
- $D = \sin(x + 11\pi) + \sin(11\pi - x) - \cos(11\pi - x)$

 **Exercice 8** : Soit $a = \sin\left(\frac{\pi}{7}\right)$. Exprimer en fonction de a :

$$\sin\left(-\frac{\pi}{7}\right) \quad \sin\left(\frac{8\pi}{7}\right) \quad \sin\left(\frac{6\pi}{7}\right) \quad \cos\left(\frac{5\pi}{14}\right)$$


 **Exercice 9** :

1. Par lecture sur le cercle trigonométrique, déterminer les réels t de $] -\pi; \pi]$ tels que $\cos(t) = -\frac{1}{2}$
2. Résoudre dans \mathbb{R} l'équation $\cos(t) = -\frac{1}{2}$.


 **Exercice 10** : Résoudre dans \mathbb{R} les équations suivantes :

1. $\cos(x) = -\frac{\sqrt{2}}{2}$
2. $\sin(x) = \frac{\sqrt{3}}{2}$
3. $\cos(x) = -1$
4. $\sin(x) = 0$

Dans chaque cas, donner les solutions de l'intervalle $[2\pi; 5\pi[$

 **Exercice 11** : À l'aide d'une figure, résoudre les équations et inéquations suivantes :

1. $\cos(x) = \frac{\sqrt{3}}{2}$ pour $x \in [0; 2\pi[$
2. $\sin(x) = -\frac{\sqrt{2}}{2}$ pour $x \in [-\pi; \pi[$
3. $\cos(x) \geq \frac{1}{2}$ pour $x \in [-\pi; \pi[$
4. $\sin(x) < \frac{1}{2}$ pour $x \in [0; 2\pi[$

 **Exercice 12** : Par lecture sur le cercle trigonométrique, déterminer les réels t de $] -\pi; \pi]$ puis ceux de $[0; 2\pi[$ tels que

1. $-\frac{1}{2} \leq \sin(t) \leq \frac{\sqrt{2}}{2}$
2. $\cos(t) \leq 0$
3. $1 - 2 \sin(t) > 0$

 **Exercice 13** : On considère l'équation (E) : $\sin x = \cos \frac{\pi}{3}$

1. Résoudre dans \mathbb{R} l'équation (E)
2. Résoudre dans $] -\pi; \pi]$ l'équation (E)