

EXERCICES : PRODUIT SCALAIRE ET APPLICATIONS

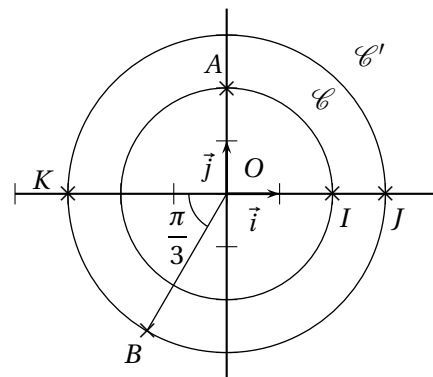
Exercice 1 :

Dans un repère orthonormal, les points A, B et C ont pour coordonnées respectives $(1; 1), (3; 4)$ et $(3-k; -1)$ où k est un réel.

1. Déterminer le réel k afin que le triangle ABC soit rectangle en A .
2. Démontrer que le triangle ABC est alors isocèle en A .

Exercice 2 :

Dans un repère orthonormal $(O; \vec{i}, \vec{j})$, on a tracé deux cercles \mathcal{C} et \mathcal{C}' de centre O et de rayons respectifs 2 et 3. Calculer les produits scalaires suivants :



- | | | |
|------------------------------|------------------------------|------------------------------|
| 1. $\vec{OI} \cdot \vec{OJ}$ | 3. $\vec{OI} \cdot \vec{OB}$ | 5. $\vec{OA} \cdot \vec{AI}$ |
| 2. $\vec{OI} \cdot \vec{OK}$ | 4. $\vec{OB} \cdot \vec{OA}$ | 6. $\vec{IA} \cdot \vec{IJ}$ |

Exercice 3 :

Dans chacun des cas suivants, calculer $\vec{u} \cdot \vec{v}$:

- | | |
|--|---|
| 1. $\vec{u}(2; 3)$ et $\vec{v}(-1; 5)$ | 4. $\ \vec{u}\ = 1; \ \vec{v}\ = 3; (\vec{u}, \vec{v}) = 0$ rad |
| 2. $\ \vec{u}\ = 1; \ \vec{v}\ = 2; (\vec{u}, \vec{v}) = \frac{2\pi}{3}$ rad | 5. $\ \vec{u}\ = 2; \ \vec{v}\ = 3; (\vec{u}, \vec{v}) = \pi$ rad |
| 3. $\ \vec{u}\ = 2; \ \vec{v}\ = 3$ et $\ \vec{u} + \vec{v}\ = 3$ | 6. Dans un repère $(O; \vec{i}, \vec{j})$ orthonormal : $\vec{u} = 2\vec{i} - 3\vec{j}$ et $\vec{v} = -\vec{i} + 2\vec{j}$ |

Exercice 4 :

On prend le centimètre comme unité. Construire un triangle ABC tel que :

- | | |
|--|---|
| 1. $AB = 3, AC = 4$ et $\vec{AB} \cdot \vec{AC} = 0$ | 2. $AB = 3, AC = 6$ et $\vec{AB} \cdot \vec{AC} = -9$ |
|--|---|

Exercice 5 :

ABC est un triangle équilatéral de côté 5 cm. I est le milieu de $[BC]$. Calculer les produits scalaires suivants :

- | | | |
|------------------------------|------------------------------|---|
| 1. $\vec{BA} \cdot \vec{BC}$ | 2. $\vec{CA} \cdot \vec{CI}$ | 3. $(\vec{AB} - \vec{AC}) \cdot \vec{AI}$ |
|------------------------------|------------------------------|---|

Exercice 6 :

Soit ABC un triangle et K le projeté orthogonal de A sur (BC) . On donne $AB = 6, BK = 4$ et $KC = 7$

1. Calculer les produits scalaires suivants $\vec{BA} \cdot \vec{BC}$ et $\vec{BC} \cdot \vec{CA}$.
2. Déterminer et représenter en rouge l'ensemble des points M du plan tels que : $\vec{BM} \cdot \vec{BC} = 44$

Exercice 7 :

On considère un segment $[AB]$ et O son milieu. Soit Δ la médiatrice du segment $[AB]$ et $M \in \Delta$. Montrer de deux manières différentes que :

$$\vec{AM} \cdot \vec{AB} = \frac{1}{2} AB^2$$

Exercice 8 :

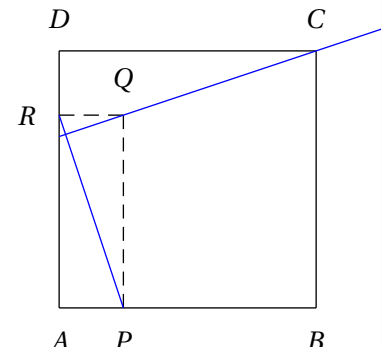
ABC est un triangle dans lequel $AB = 2$ et $AC = 3$. De plus $\vec{AB} \cdot \vec{AC} = 4$
 ABC est-il rectangle? Si oui, préciser le sommet.

Exercice 9 :

$ABCD$ est un parallélogramme avec $AB = 4$, $AD = 5$ et $AC = 7$.
 Calculer $\vec{AB} \cdot \vec{AD}$. En déduire BD .

Exercice 10 :

Soit $ABCD$ un carré, on construit un rectangle $APQR$ tel que :
 - P et R sont sur les côtés $[AB]$ et $[AD]$ du carré
 - $AP = DR$



But : On souhaite montrer que les droites (PR) et (CQ) sont perpendiculaires

1. Montrer que : $\vec{CQ} \cdot \vec{PR} = \vec{CQ} \cdot (\vec{AR} - \vec{AP})$
2. En déduire que les droites (PR) et (CQ) sont perpendiculaires.

Exercice 11 :

\mathcal{C} est un cercle de centre O et de rayon r et M un point non situé sur \mathcal{C} . Deux droites issues de M coupent \mathcal{C} respectivement en A et B et en C et D

But : Montrer que $\vec{MA} \cdot \vec{MB} = \vec{MC} \cdot \vec{MD}$

On note A' le point diamétralement opposé à A sur \mathcal{C}

1. Faire deux figures suivant que M est à l'intérieur ou à l'extérieur de \mathcal{C}
2. Démontrer que $\vec{MA} \cdot \vec{MB} = \vec{MA} \cdot \vec{MA'}$
3. a. En utilisant la relation de Chasles, démontrer que :

$$\vec{MA} \cdot \vec{MA'} = MO^2 - r^2$$

- b. En déduire que $\vec{MA} \cdot \vec{MB} = \vec{MC} \cdot \vec{MD}$

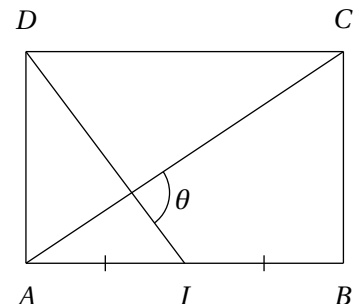
Note

On montre ainsi que le produit scalaire $\vec{MA} \cdot \vec{MB}$ est indépendant de la sécante issue de M , il ne dépend que de la distance de M à O . Le réel $MO^2 - r^2$ (qui est nul lorsque M est un point de \mathcal{C}) est appelé **puissance de M par rapport à \mathcal{C}** . Il est positif lorsque M est à l'extérieur de \mathcal{C} et négatif si M est à l'intérieur de \mathcal{C}

Exercice 12 :

$ABCD$ est un rectangle tel que $AD = 3$ et $AB = 5$. I est le milieu de $[AB]$.


1. Calculer AC et DI .
2. Exprimer chacun des vecteurs \vec{AC} et \vec{DI} en fonction des vecteurs \vec{AB} et \vec{AD} .
3. Calculer le produit scalaire $\vec{AC} \cdot \vec{DI}$.
4. En déduire la valeur de l'angle $\theta = (\vec{DI}; \vec{AC})$ à 0,001 près en degrés.



 **Exercice 13 :**

On se place dans un repère orthonormé $(O; \vec{i}, \vec{j})$. On considère un triangle ABC avec $A(-1; 2)$, $B(3; 1)$ et $C(2; 4)$.

1. Déterminer une équation de la médiatrice du segment $[AB]$.
2. Déterminer une équation de la hauteur issue de A dans le triangle ABC .

 **Exercice 14 :**

Dans un repère orthonormé $(O; \vec{i}, \vec{j})$, on considère les points suivants :

$$A(2; 1) \quad B(7; 2) \quad C(3; 4)$$

Les questions suivantes sont indépendantes et sans rapport :

1. Déterminer une équation cartésienne de la médiatrice de $[BC]$.
2. Calculer $\vec{AB} \cdot \vec{AC}$. L'angle \hat{A} est-il droit ?

 **Exercice 15 :**

Dans un repère orthonormé $(O; \vec{i}, \vec{j})$, on considère le point $A(3; 5)$.
Chercher une équation de la tangente en A au cercle \mathcal{C} de centre O et de rayon OA .

 **Exercice 16 :**

Dans un repère orthonormé $(O; \vec{i}, \vec{j})$, on donne $A(-2; 2)$ et $B(2; 2)$.

1. Calculer les coordonnées du milieu I de $[AB]$.
2.
 - a. Montrer que pour tout point M du plan : $MA^2 - MB^2 = 2\vec{IM} \cdot \vec{AB}$
 - b. Trouver et représenter l'ensemble des points M du plan tels que : $MA^2 - MB^2 = 14$
3.
 - a. Démontrer que, pour tout point M du plan, on a :

$$MA^2 + MB^2 = 2MI^2 + \frac{AB^2}{2}$$

- b. Démontrer que l'ensemble E des points M du plan tels que : $MA^2 + MB^2 = 40$ est un cercle \mathcal{C} de centre I et de rayon $r = 4$.
 - c. Déterminer une équation du cercle \mathcal{C} .
4. Déterminer les coordonnées des (éventuels) points d'intersection de \mathcal{C} avec l'axe des abscisses.
 5. Soit λ un réel négatif. Comment choisir λ pour que le point $Z(7; \lambda)$ soit sur \mathcal{C} ?
 6. Déterminer une équation de la tangente \mathcal{T} à \mathcal{C} en Z .

 **Exercice 17 :**

On considère un segment $[AB]$ avec $AB = 1$ dm. Déterminer l'ensemble des points M tels que :

1. $\vec{MA} \cdot \vec{MB} = 1$
2. $MA^2 + MB^2 = 5$