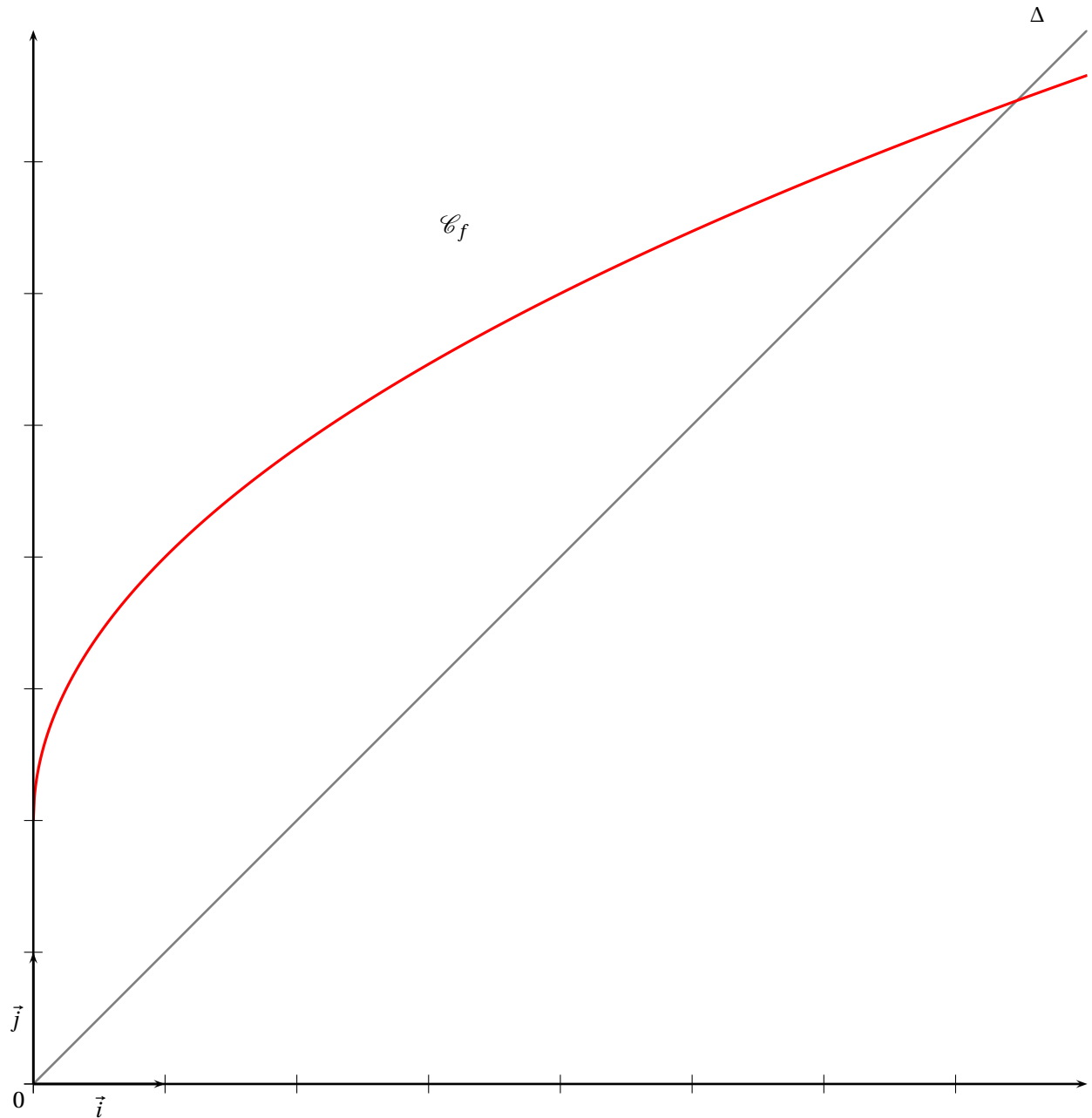


💡 Exemple :

On considère la suite (u_n) définie pour $n \geq 0$ par $u_{n+1} = 2\sqrt{u_n} + 2$ et $u_0 = 1$

On considère la fonction f vérifiant $u_{n+1} = f(u_n)$ définie par $f : x \mapsto 2\sqrt{x} + 2$.

On a représenté ci-dessous la représentation graphique \mathcal{C}_f de f et la droite Δ d'équation $y = x$, puis on a suivi les mêmes étapes que pour l'exemple précédent.

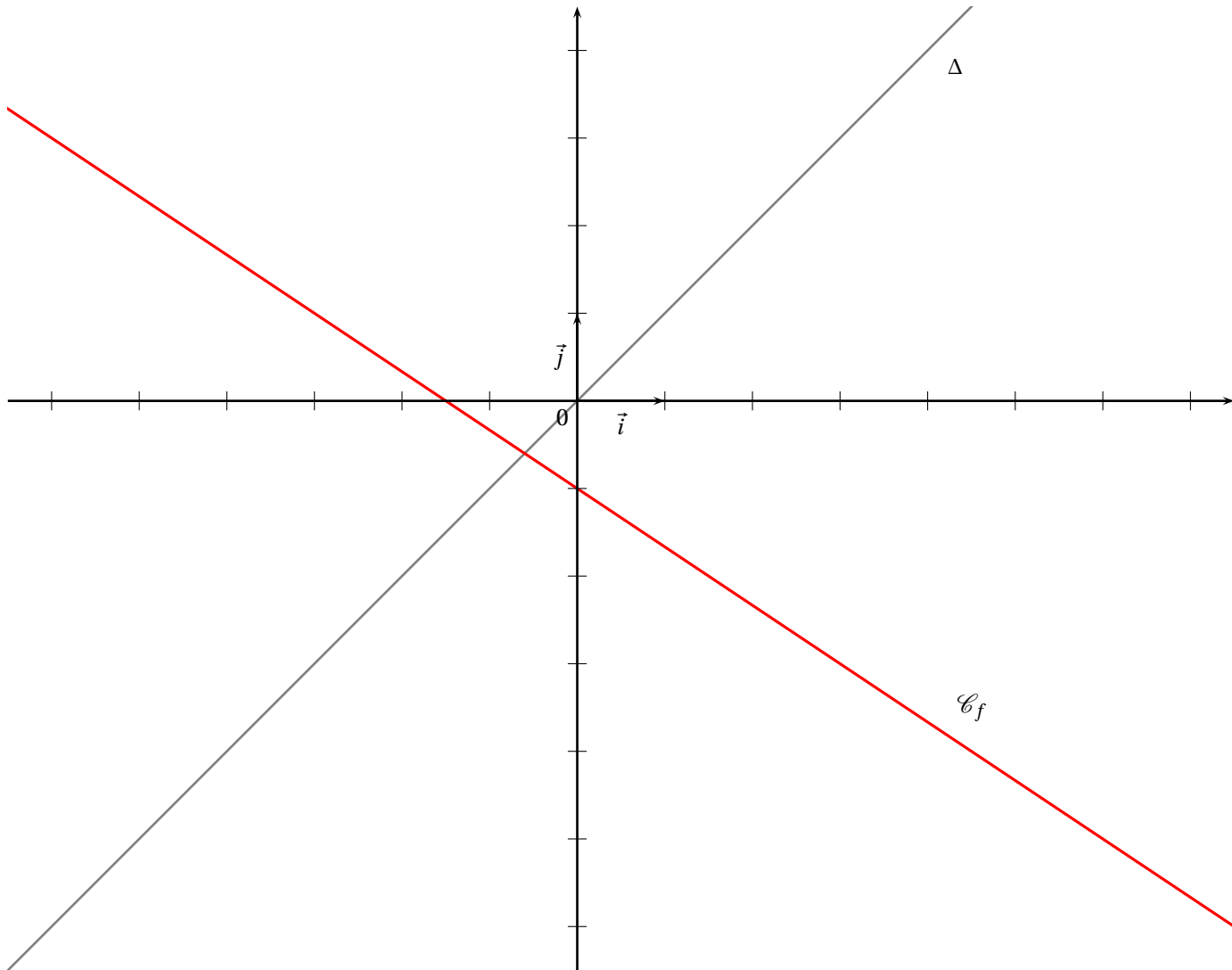


 **Exemple :**

On considère la suite (u_n) définie pour $n \geq 0$ par $u_{n+1} = -\frac{2}{3}u_n - 1$ et $u_0 = 7$

On considère la fonction f vérifiant $u_{n+1} = f(u_n)$ définie par $f : x \mapsto -\frac{2}{3}x - 1$.

On a représenté ci-dessous la représentation graphique \mathcal{C}_f de f et la droite Δ d'équation $y = x$, puis on a suivi les mêmes étapes que pour l'exemple précédent.

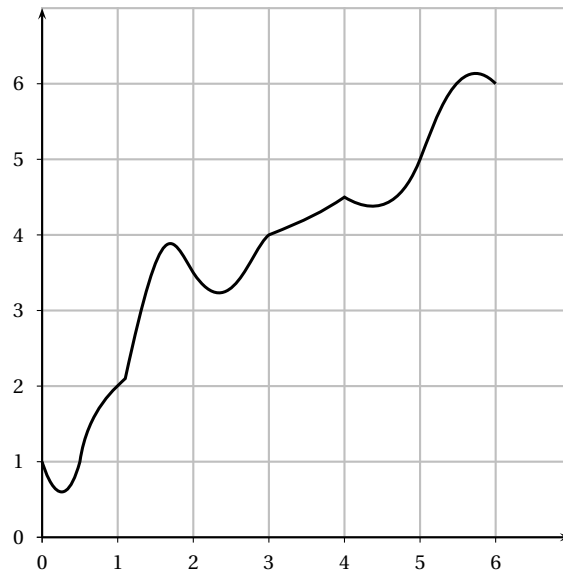


Travail de l'élève 3. Soient les suites (u_n) , (v_n) , (w_n) et (t_n) définies sur \mathbb{N} par :

$$u_n = 2n + 3 \quad v_n = 5 \times 0.8^n \quad w_n = 5 \times (-0.8)^n \quad \text{et} \quad \begin{cases} t_0 = 4 \\ t_{n+1} = t_n - 3 \end{cases}$$

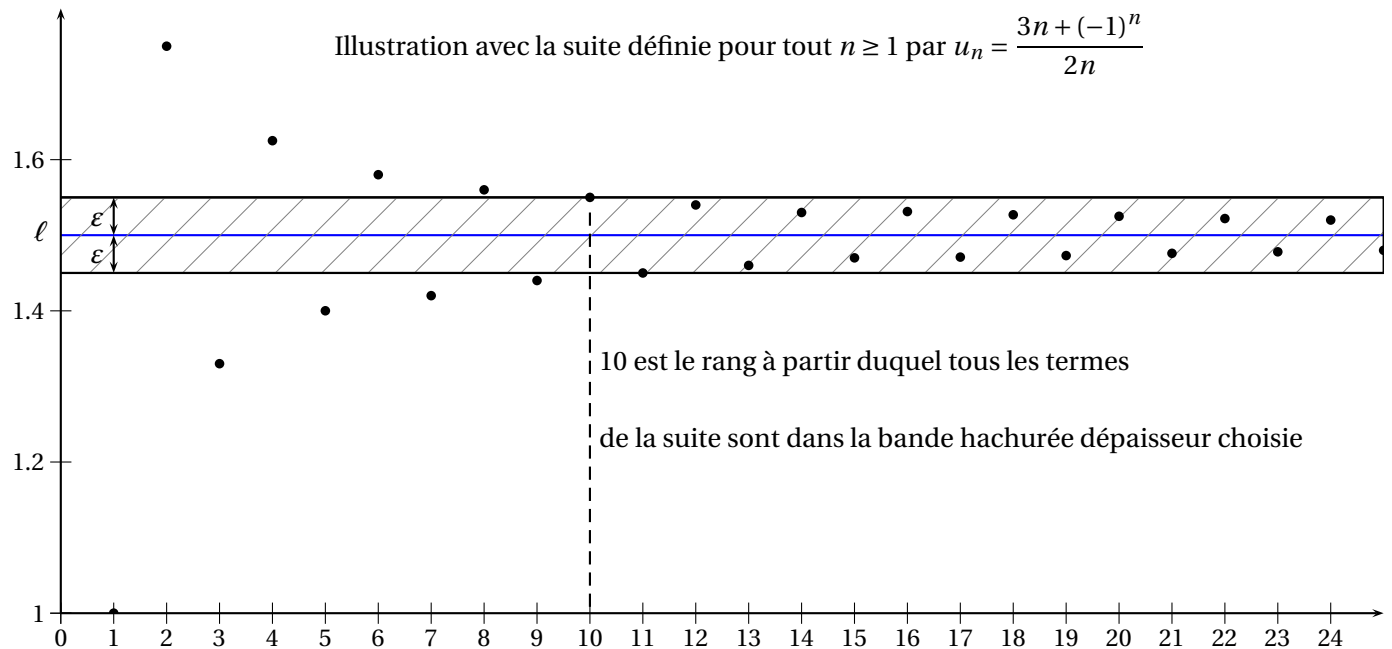
Comparer pour tout $n \in \mathbb{N}$ les termes suivants :

1. u_{n+1} et u_n .
2. v_{n+1} et v_n .
3. w_{n+1} et w_n .
4. t_{n+1} et t_n .



Exemple :

Graphiquement, cela se traduit ainsi :



- Le graphique permet de conjecturer que la suite (u_n) converge vers $\ell = \dots\dots$
- Ici on a choisi $\varepsilon = \dots\dots\dots$ et on a trouvé que pour $N = \dots\dots\dots$, tous les termes de la suite (u_n) étaient dans l'intervalle] $\dots\dots\dots$; $\dots\dots\dots$ [pour $n \geq \dots\dots$
- Si on avait choisi $\varepsilon = 0.1$, on aurait trouvé que pour $N = \dots\dots\dots$, tous les termes de la suite (u_n) étaient dans l'intervalle] $\dots\dots\dots$; $\dots\dots\dots$ [pour $n \geq \dots\dots$
- Si on avait choisi $\varepsilon = 0.04$, on aurait trouvé que pour $N = \dots\dots\dots$, tous les termes de la suite (u_n) étaient dans l'intervalle] $\dots\dots\dots$; $\dots\dots\dots$ [pour $n \geq \dots\dots$

Travail de l'élève 2. On considère la fonction f définie sur $[0; +\infty[$ par $f(x) = \sqrt{x}$.
La suite (u_n) est définie par $u_0 = 3$ et pour tout $n \geq 0$ on a $u_{n+1} = f(u_n) = \sqrt{u_n}$.

Partie A : Tracer les premiers termes sur l'axe des abscisses

1. Tracer soigneusement la courbe \mathcal{C} représentant f et la droite Δ d'équation $y = x$ sur $[0; 3]$ dans un repère orthonormé avec pour unité 5 cm.
2.
 - a. Placer u_0 sur l'axe des abscisses. Placer $u_1 = f(u_0)$ sur l'axe des ordonnées.
 - b. Placer le point A_1 de Δ d'ordonnée u_1 . Quelle est son abscisse ?
Placer alors u_1 sur l'axe des abscisses.
 - c. Sachant que $u_2 = f(u_1)$, expliquer comment construire u_2 sur l'axe des abscisses. Le construire.
3. Construire ainsi, pas à pas, sur l'axe des abscisses, les premiers termes de la suite jusqu'à u_5 .
4. Comment se poursuivrait le tracé si on pouvait agrandir le graphique ?
Emettre des conjectures sur le comportement de la suite (u_n) .

Partie B : Influence du premier terme

1. Sur votre calculatrice, afficher de même les premiers termes de la suite (v_n) définie par $v_0 = 0.1$ et pour tout n , $v_{n+1} = f(v_n)$.
Dans **Fenêtre**, choisir X et Y entre 0 et 1.
2. Emettre des conjectures sur le comportement de la suite (v_n) .

Travail de l'élève 4. Soient les suites (u_n) , (v_n) et (w_n) définies sur \mathbb{N} par :

$$u_n = \frac{1}{n} \quad v_n = n^2 - 3 \quad w_n = (-1)^n$$

1. Etudier le sens de variation de chacune de ces suites.
2. Conjecturer graphiquement le « comportement à l'infini » de ces suites.
3.
 - a. Déterminer un entier p tel que pour tout entier $n \geq p$, on ait $0 \leq u_n \leq 10^{-6}$.
 - b. Peut-on faire de même en remplaçant 10^{-6} par n'importe quel réel $\varepsilon > 0$?
4.
 - a. Déterminer un entier p' tel que pour tout entier $n \geq p'$, on ait $v_n \geq 10^{10}$.
 - b. Peut-on faire de même en remplaçant 10^{10} par n'importe quel réel M ?