

EXERCICES : INTÉGRALES

EXERCICE 1**6 points**

Soit f la fonction définie sur l'intervalle $[0 ; +\infty[$ par

$$f(x) = \ln(1 + xe^{-x}).$$

On note f' la fonction dérivée de la fonction f sur l'intervalle $[0 ; +\infty[$.

On note \mathcal{C} la courbe représentative de la fonction f dans un repère orthogonal. La courbe \mathcal{C} est représentée en annexe 1 (à rendre avec la copie).

PARTIE I

1. Justifier que $\lim_{x \rightarrow +\infty} f(x) = 0$.
2. Justifier que pour tout nombre réel positif x , le signe de $f'(x)$ est celui de $1 - x$.
3. Etudier les variations de la fonction f sur l'intervalle $[0 ; +\infty[$.

PARTIE II

Soit λ un nombre réel strictement positif. On pose $\mathcal{A}(\lambda) = \int_0^\lambda f(x) dx$. On se propose de majorer $\mathcal{A}(\lambda)$ à l'aide de deux méthodes différentes.

1. Première méthode

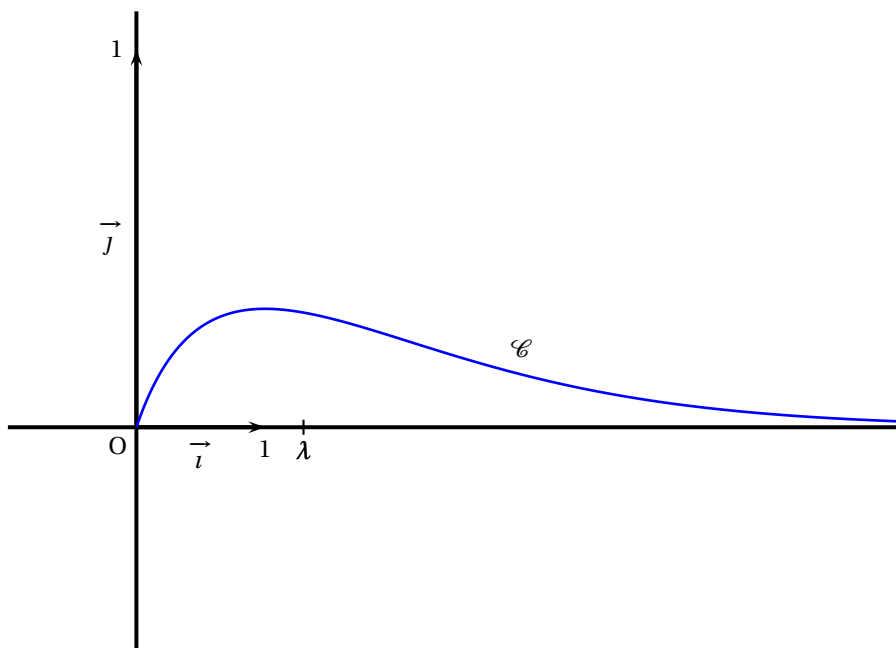
- a. Représenter, sur l'annexe jointe (à rendre avec la copie), la partie du plan dont l'aire en unité d'aire, est égale à $\mathcal{A}(\lambda)$.
- b. Justifier que pour tout nombre réel λ strictement positif, $\mathcal{A}(\lambda) \leq \lambda \times f(1)$.

2. Deuxième méthode

- a. Calculer à l'aide d'une intégration par parties $\int_0^\lambda xe^{-x} dx$ en fonction de λ .
- b. On admet que pour tout nombre réel positif u , $\ln(1 + u) \leq u$.
Démontrer alors que, pour tout nombre réel λ strictement positif,
 $\mathcal{A}(\lambda) \leq -\lambda e^{-\lambda} - e^{-\lambda} + 1$.

3. Application numérique

Avec chacune des deux méthodes, trouver un majorant de $\mathcal{A}(5)$, arrondi au centième. Quelle méthode donne le meilleur majorant dans le cas où $\lambda = 5$?



EXERCICE 2**5 points****Partie A**

Restitution organisée de connaissances On supposera connus les résultats suivants :

- $e^0 = 1$.
 - Pour tous réels x et y , $e^x \times e^y = e^{x+y}$.
1. Démontrer que pour tout réel x , $e^{-x} = \frac{1}{e^x}$.
 2. Démontrer que pour tout réel x et pour tout entier naturel n , $(e^x)^n = e^{nx}$.

Partie B

On considère la suite (u_n) définie pour tout entier naturel n par :

$$u_n = \int_0^1 \frac{e^{-nx}}{1+e^{-x}} dx.$$

1.
 - a. Montrer que $u_0 + u_1 = 1$.
 - b. Calculer u_1 . En déduire u_0 .
2. Montrer que pour tout entier naturel n , $u_n \geq 0$.
3.
 - a. Montrer que pour tout entier naturel n non nul, $u_{n+1} + u_n = \frac{1 - e^{-n}}{n}$.
 - b. En déduire que pour tout entier naturel n non nul, $u_n \leq \frac{1 - e^{-n}}{n}$.
4. Déterminer la limite de la suite (u_n) .

EXERCICE 3**6 points**

On considère la fonction f définie sur \mathbb{R} par

$$f(x) = \ln(e^x + 2e^{-x}).$$

La courbe (\mathcal{C}) représentative de la fonction f dans un repère orthogonal est donnée en annexe.

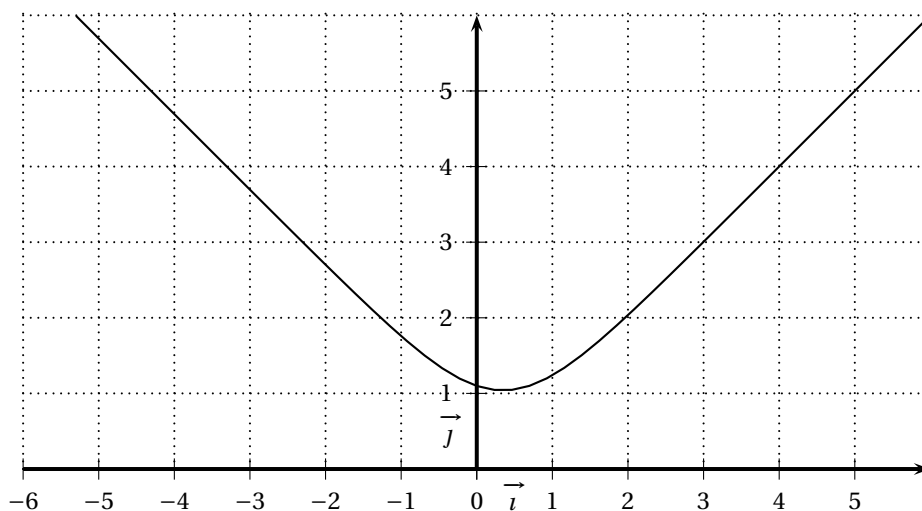
Partie A - étude de fonction f .

1. Montrer que, pour tout réel x , $f(x) = x + \ln(1 + 2e^{-2x})$.
On admet que, pour tout réel x , $f(x) = -x + \ln(2 + e^{2x})$.
2. Calculer $\lim_{x \rightarrow +\infty} f(x)$ et montrer que la droite (d) d'équation $y = x$ est asymptote à (\mathcal{C}) .
Etudier la position relative de (\mathcal{C}) et de (d).
3. Calculer $\lim_{x \rightarrow -\infty} f(x)$ et montrer que la droite (d') d'équation $y = -x + \ln 2$ est asymptote à (\mathcal{C}) .
4. Etudier les variations de la fonction f .
Montrer que le minimum de la fonction f est égal à $\frac{3}{2} \ln 2$.
5. Tracer les droites (d) et (d') sur la feuille annexe.

Partie B - Encadrement d'une intégrale.

On pose $I = \int_2^3 [f(x) - x] dx$.

1. Donner une interprétation géométrique de I .
2. Montrer que, pour tout $X \in [0; +\infty[$, $\ln(1 + X) \leq X$.
3. En déduire que $0 \leq I \leq \int_2^3 2e^{-2x} dx$ et donner un encadrement de I d'amplitude 0,02.



EXERCICE 4

5 points

Partie A : Restitution organisée de connaissances

On supposera connus les résultats suivants :

Soient u et v deux fonctions continues sur un intervalle $[a ; b]$ avec $a < b$.

- Si $u \geq 0$ sur $[a ; b]$ alors $\int_a^b u(x) dx \geq 0$.
- Pour tous réels α et β , $\int_a^b [\alpha u(x) + \beta v(x)] dx = \alpha \int_a^b u(x) dx + \beta \int_a^b v(x) dx$.

Démontrer que si f et g sont deux fonctions continues sur un intervalle $[a ; b]$ avec $a < b$ et si, pour tout x de $[a ; b]$, $f(x) \leq g(x)$ alors $\int_a^b f(x) dx \leq \int_a^b g(x) dx$.

Partie B

On considère la fonction f définie sur l'intervalle $[0 ; 1]$ par $f(x) = e^{-x^2}$ et on définit la suite (u_n) par :

$$\begin{cases} u_0 = \int_0^1 f(x) dx = \int_0^1 e^{-x^2} dx \\ \text{pour tout entier naturel } n \text{ non nul, } u_n = \int_0^1 x^n f(x) dx = \int_0^1 x^n e^{-x^2} dx \end{cases}$$

1. a. Démontrer que, pour tout réel x de l'intervalle $[0 ; 1]$, $\frac{1}{e} \leq f(x) \leq 1$.
b. En déduire que $\frac{1}{e} \leq u_0 \leq 1$.
2. Calculer u_1 .
3. a. Démontrer que pour tout entier naturel n , $0 \leq u_n$.
b. Etudier les variations de la suite (u_n) .
c. En déduire que la suite (u_n) est convergente.
4. a. Démontrer que, pour tout entier naturel n , $u_n \leq \frac{1}{n+1}$.
b. En déduire la limite de la suite (u_n) .

EXERCICE 5

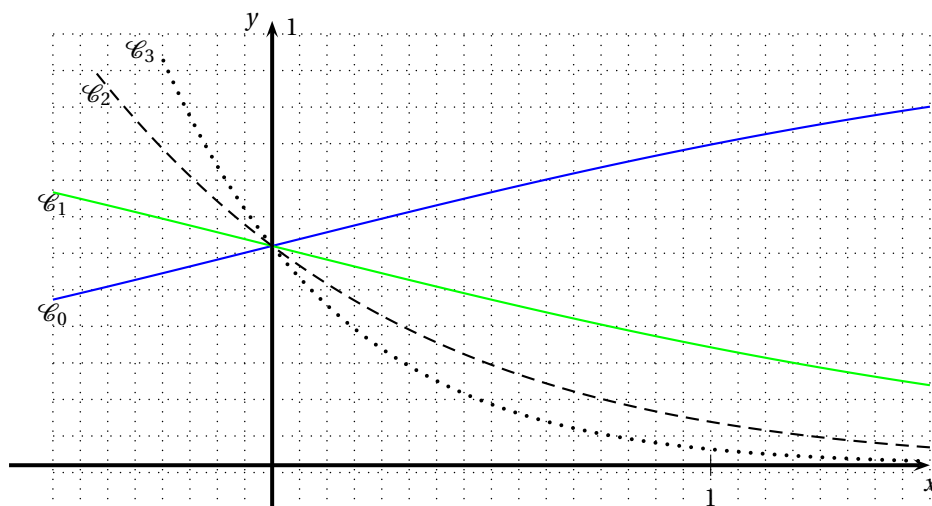
6 points

Soit n un entier naturel.

On note f_n , la fonction définie sur l'ensemble \mathbb{R} des nombres réels par :

$$f_n(x) = \frac{e^{-nx}}{1 + e^{-x}}$$

On note \mathcal{C}_n la courbe représentative de f_n dans un repère orthogonal (O, \vec{i}, \vec{j}) . Les courbes \mathcal{C}_0 , \mathcal{C}_1 , \mathcal{C}_2 et \mathcal{C}_3 sont représentées ci-dessous :



Partie A : Quelques propriétés des fonctions f_n et des courbes \mathcal{C}_n

1. Démontrer que pour tout entier naturel n les courbes \mathcal{C}_n ont un point A en commun. On précise ses coordonnées.
2. Etude de la fonction f_0
 - a. étudier le sens de variation de f_0 .
 - b. Préciser les limites de la fonction f_0 en $-\infty$ et $+\infty$. Interpréter graphiquement ces limites.
 - c. Dresser le tableau de variation de fonction f_0 sur \mathbb{R} .
3. Etude de la fonction f_1
 - a. Démontrer que $f_0(x) = f_1(-x)$ pour tout nombre réel x .
 - b. En déduire les limites de la fonction f_1 en $-\infty$ et $+\infty$, ainsi que son sens de variation.
 - c. Donner une interprétation géométrique de 3. a. pour les courbes \mathcal{C}_0 et \mathcal{C}_1 .
4. Etude de la fonction f_n pour $n \geq 2$
 - a. Vérifier que pour tout entier naturel $n \geq 2$ et pour tout nombre réel x , on a :

$$f_n(x) = \frac{1}{e^{nx} + e^{(n-1)x}}.$$

- b. Etudier les limites de la fonction f_n en $-\infty$ et en $+\infty$.
- c. Calculer la dérivée $f'_n(x)$ et dresser le tableau de variations de la fonction f_n sur \mathbb{R} .

Partie B : étude d'une suite liée aux fonctions f_n

On pose, pour tout entier naturel n : $u_n = \int_0^1 f_n(x) dx$.

1. Calculer u_1 puis montrer que $u_0 + u_1 = 1$. En déduire u_0 .
2. Démontrer que, pour tout entier n : $0 \leq u_n \leq \int_0^1 e^{-nx} dx$.
3. Calculer l'intégrale : $\int_0^1 e^{-nx} dx$. En déduire que la suite (u_n) est convergente et préciser sa limite.