

Chapitre 2: Limites de suites et de fonctions

I. Limites de suites

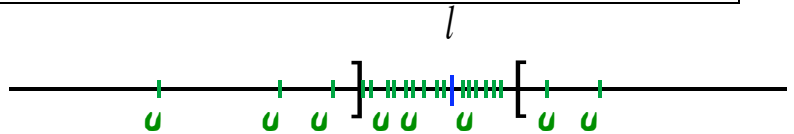
1. Rappel: Limite finie

Définition :

Soit (u_n) une suite et l un nombre réel.

On dit que la suite (u_n) converge vers l si tout intervalle ouvert contenant l contient aussi tous les termes de la suite à partir d'un certain rang.

On dit aussi que la suite (u_n) a pour limite l , et on note $\lim_{n \rightarrow +\infty} u_n = l$.

**Remarque :**

Cela revient à dire que :

- Tout intervalle ouvert contenant l contient tous les termes de la suite sauf peut-être un nombre fini d'entre eux.
- Le terme général u_n de la suite est aussi proche que l'on veut de l à partir d'un certain rang.

Exemples : $\lim_{n \rightarrow +\infty} \frac{2}{3+n} = 0$; $\lim_{n \rightarrow +\infty} 2 + \frac{1}{\sqrt{n}} = 2$ (à faire trouver)

Contre-exemple : La suite (u_n) de terme général $u_n = (-1)^n$ n'a pas de limite. On dit qu'elle diverge.

Théorème :

La suite (u_n) converge vers 0 ssi $(|u_n|)$ converge vers 0.

Lemme : Tout intervalle ouvert contenant l contient aussi un intervalle ouvert centré en l , ie de la forme $]l - \varepsilon; l + \varepsilon[$, où ε est un réel strictement positif.

Preuve : dessin + explications orales (donner un exemple)

Preuve (admise) :

Soit $] \beta_1; \beta_2[$ un intervalle contenant 0. D'après le lemme, il existe $\varepsilon > 0$ tq $] -\varepsilon; \varepsilon[\subset] \beta_1; \beta_2[$.

\Rightarrow : Si (u_n) converge vers 0, alors l'intervalle $] -\varepsilon; \varepsilon[$ contient tous les termes de la suite (u_n) à partir d'un rang n_0 .

Donc pour $n > n_0$, $|u_n| < \alpha$ et $|u_n|$ est aussi dans l'intervalle $] -\varepsilon; \varepsilon[$ à partir du même rang et donc dans $] \beta_1; \beta_2[$. $(|u_n|)$ converge bien vers 0.

\Leftarrow : Si $(|u_n|)$ tend vers 0 alors il existe un rang n_0 à partir duquel $]-\varepsilon; \varepsilon[$ contient tous les termes de la suite $(|u_n|)$, et donc aussi dans l'intervalle $]\beta_1; \beta_2[$, ce qui signifie que (u_n) converge vers 0.

Théorème : La suite (u_n) converge vers l ssi la suite $(u_n - l)$ converge vers 0.

Exercices : exo 1 de la feuille n°1

Déterminer la limite de la suite (u_n) de terme général $u_n = \frac{3n^2 + n}{n^2}$ pour tout $n \in \mathbb{N}^*$.

Rédaction : On a, pour tout $n \in \mathbb{N}^*$: $u_n = \frac{n^2(3 + \frac{1}{n})}{n^2} = 3 + \frac{1}{n}$.

Or $\lim_{n \rightarrow +\infty} \frac{1}{n} = 0$ d'où $\lim_{n \rightarrow +\infty} u_n = 3$.

Déterminer la limite de la suite (u_n) de terme général $u_n = \frac{n + (-1)^n}{2n - 1}$ pour tout $n \in \mathbb{N}$. (R p55)

Soit (u_n) la suite définie pour tout $n \in \mathbb{N}$ par $u_n = \frac{2(-1)^n - 4n + 3}{n + 7}$. Etudier $\lim_{n \rightarrow +\infty} u_n$. (R p 69)

Théorème :

Si une suite (u_n) converge, sa limite est unique.

Preuve (non exigée) :

Supposons que (u_n) ait deux limites $l \neq l'$. Alors il existe deux intervalles ouverts I et J disjoints contenant respectivement l et l' .

Comme (u_n) converge vers l , l'intervalle I contient tous les termes de la suite à partir d'un certain rang n_1 . De plus (u_n) converge vers l' , donc l'intervalle J contient tous les termes de la suite à partir d'un rang n_2 .

Donc pour $n > \max(n_1; n_2)$, tous les termes de la suite sont dans les intervalles I et J.

Ceci est impossible car les intervalles sont disjoints.

Donc $l = l'$ et la limite est unique.

2. Limite infinie

Définition :

Soit (u_n) une suite de nombres réels. On dit que la suite (u_n) tend vers $+\infty$ ssi tout intervalle ouvert de la forme $]\lambda; +\infty[$ contient tous les termes de la suite (u_n) à partir d'un certain rang n_0 (dépendant de λ). On dit encore que la suite diverge vers $+\infty$ et on note $\lim_{n \rightarrow +\infty} u_n = +\infty$.

Soit (u_n) une suite de nombres réels. On dit que la suite (u_n) tend vers $-\infty$ ssi la suite $(-u_n)$ tend vers $+\infty$. On dit aussi que la suite diverge vers $-\infty$ et on note $\lim_{n \rightarrow +\infty} u_n = -\infty$.

Remarque : dire que la suite (u_n) tend vers $+\infty$ revient à dire que

- Tout intervalle de la forme $]\lambda; +\infty[$ contient tous les termes de la suite sauf p \hat{e} un nombre fini.
- Son terme g \acute{e} neral u_n est aussi grand que l'on veut \grave{a} partir d'un certain rang.

Exemples : Soit $k \in \mathbb{N}^*$, alors $\lim_{n \rightarrow +\infty} n^k = +\infty$. $\lim_{n \rightarrow +\infty} -\sqrt{n} = -\infty$

Exercices : DTS n $^\circ$ 29-30-31 p 60. + exo 2 de la feuille n $^\circ$ 1

Soit la suite (u_n) d \acute{e} finie pour tout $n \in \mathbb{N}$ par : $u_n = n(-1)^n$. D \acute{e} montrer qu'elle diverge.

Soit la suite (u_n) d \acute{e} finie pour tout $n \in \mathbb{N}$ par $u_n = n - \cos(n^2)$. Etudier $\lim_{n \rightarrow +\infty} u_n$. (R p 55)

Montrer que la suite (u_n) de terme g \acute{e} neral $u_n = n^2 + \sin n$ diverge. (R p 69)

II. Limites de fonctions

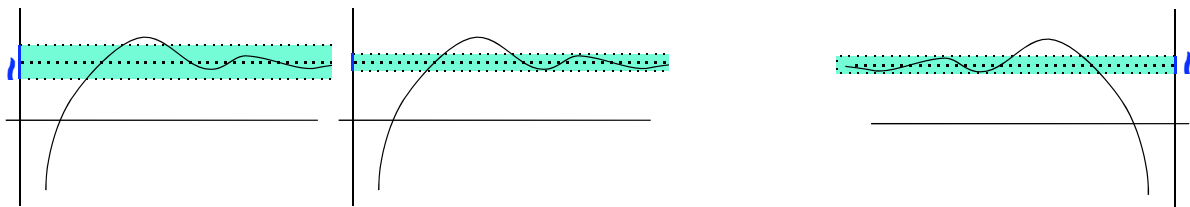
1. Limite finie en l'infini

D \acute{e} finition :

Soit $l \in \mathbb{R}$ et f une fonction dont l'ensemble de d \acute{e} finition contient un intervalle de la forme $]\lambda; +\infty[$, avec λ r \acute{e} el.

On dit qu'une fonction f **tend vers l quand x tend vers $+\infty$** (resp. $-\infty$) ssi tout intervalle ouvert contenant l contient aussi toutes les valeurs de $f(x)$ pour x assez grand (resp. $-x$ assez grand).

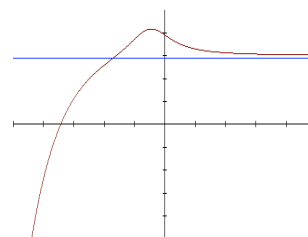
On note alors $\lim_{x \rightarrow +\infty} f(x) = l$ (resp. $\lim_{x \rightarrow -\infty} f(x) = l$).



Interpr \acute{e} tation graphique : Si $\lim_{x \rightarrow +\infty} f(x) = l$.

Soit d la droite d' \acute{e} quation $y = l$. Si deux points M et N , avec $M \in C_f, N \in d$, ont la m \acute{e} me abscisse x alors $MN = |f(x) - l|$. Dire que $\lim_{x \rightarrow +\infty} f(x) = l$ signifie que la distance MN est arbitrairement petite pour tout x assez grand.

On dit alors que la droite d' \acute{e} quation $y = l$ est **asymptote horizontale** \grave{a} la courbe repr \acute{e} sentative de f en $+\infty$.



Asymptote horizontale :
 $x \rightarrow \infty$ et $f(x) \rightarrow b$

Exemple : $f(x) = \frac{2+x}{x}$, $g(x) = \frac{3x+5}{2x+1}$

ATTENTION aux valeurs interdites

Rédaction (hors programme): un tableau de valeur permet de conjecturer la limite.

Il semble naturel de conjecturer $\lim_{x \rightarrow +\infty} f(x) = 1$. On remarque que $\forall x \neq 0 : f(x) = 1 + \frac{2}{x}$.

Soit un réel $\varepsilon > 0$ fixé et l'intervalle $V =]1 - \varepsilon; 1 + \varepsilon[$.

On cherche un réel A , dépendant de ε , tq pour tout réel x :

$$x > A \text{ implique } f(x) \in V, \quad \text{ie} \quad 1 - \varepsilon < 1 + \frac{2}{x} < 1 + \varepsilon.$$

Sur $]0; +\infty[$, on a toujours $1 - \varepsilon < 1 + \frac{2}{x}$.

Il suffit donc de trouver A tq pour $x > A$ on ait : $1 + \frac{2}{x} < 1 + \varepsilon$

Or, sur $]0; +\infty[$, cette inéquation équivaut à $x > \frac{2}{\varepsilon}$.

On a trouvé un $A > 0$ $\left(A = \frac{2}{\varepsilon} \right)$ tq l'on ait $1 - \varepsilon < 1 + \frac{2}{x} < 1 + \varepsilon$.

Ceci prouve le résultat $\lim_{x \rightarrow +\infty} f(x) = 1$.

Idem en $-\infty$.

Exercices: DTS p47 A + exo 3 de la feuille n°1

Déterminer les limites des fonctions suivantes en $-\infty$ et $+\infty$ (R n°1 p 34) :

$$g(x) = \frac{-3x+1}{6x-1} \qquad h : x \mapsto \frac{x^2 + 2x + 9}{-2x^5}$$

2. Limite infinie en l'infini

Définition :

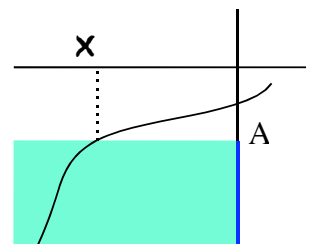
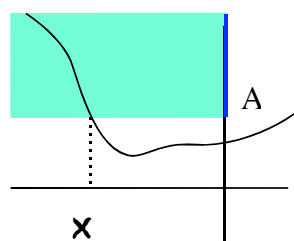
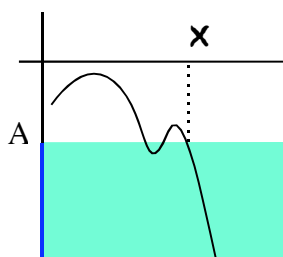
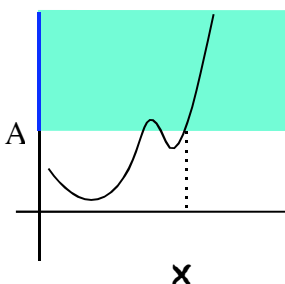
Soit f une fonction dont l'ensemble de définition contient un intervalle de la forme $]\lambda; +\infty[$, avec λ réel.

On dit qu'une fonction f **tend vers** $+\infty$ **quand** x **tend vers** $+\infty$ (resp. $-\infty$) ssi tout intervalle $]A; +\infty[$ (A réel) contient toutes les valeurs de $f(x)$ pour x assez grand (resp. $-x$ assez grand).

On note alors $\lim_{x \rightarrow +\infty} f(x) = +\infty$ (resp. $\lim_{x \rightarrow -\infty} f(x) = +\infty$).

On dit qu'une fonction f **tend vers** $-\infty$ **quand** x **tend vers** $+\infty$ (resp. $-\infty$) ssi tout intervalle $]-\infty; A[$ (A réel) contient toutes les valeurs de $f(x)$ pour x assez grand (resp. $-x$ assez grand).

On note alors $\lim_{x \rightarrow +\infty} f(x) = -\infty$ (resp. $\lim_{x \rightarrow -\infty} f(x) = -\infty$).



(faire reconnaître et noter le titre des graphes)

Exemples (regarder sur la calculatrice graphique et conjecturer) :

$$\lim_{x \rightarrow +\infty} \sqrt{x} = +\infty, \quad \lim_{x \rightarrow +\infty} x^n = +\infty \text{ pour tout } n \in \mathbb{N}^*$$

$$\lim_{x \rightarrow -\infty} x^n = +\infty \text{ pour tous les entiers } n \text{ pairs} \quad \text{et} \quad \lim_{x \rightarrow -\infty} x^n = -\infty \text{ pour tous les entiers } n \text{ impairs}$$

Exercice : exo 4 de la feuille n°1

On considère la fonction f définie sur \mathbb{R} par $f(x) = 3x^3 + x^2$.

- Déterminer les valeurs de $f(1), f(10), f(100), f(1125)$.
- On considère l'intervalle $]100; +\infty[$. Démontrer que pour $x > 10$, $f(x) \in]100; +\infty[$.
- On considère un intervalle $]A; +\infty[$ avec $A > 0$, mq pour $x > \sqrt{A}$, tous les $f(x)$ sont dans l'intervalle $]A; +\infty[$.
- Que peut-on en conclure ?

Exercices : D p51 + exo 5 de la feuille n°1

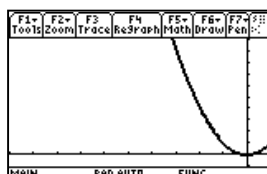
Soit f définie sur \mathbb{R} par $f(x) = -2x + 3$. Démontrer que $\lim_{x \rightarrow +\infty} f(x) = -\infty$.

Soit f définie sur \mathbb{R} par $f(x) = -3x^3 - 2x - 4$. Déterminer les limites en $\pm\infty$.

Exercice : Conjecturer des limites à partir des graphes des fonctions :

La fonction $f : x \mapsto x^2$

Et autres ci-dessus ou classiques.



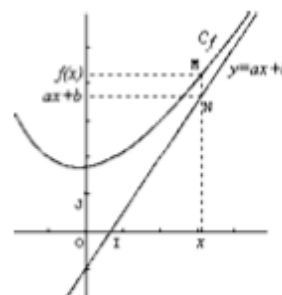
Interprétation graphique : Soient $a, b \in \mathbb{R}$

Soit d la droite d'équation $y = ax + b$. Soit x un réel.

Le point $M \in C_f$ d'abscisse x a pour ordonnée $f(x)$.

Le point $N \in d$ d'abscisse x a pour ordonnée $ax + b$.

$MN = |f(x) - (ax + b)|$ est la distance entre ces deux points.



Définition :

Si $\lim_{x \rightarrow +\infty} |f(x) - (ax + b)| = 0$ (resp $x \rightarrow -\infty$), alors la droite d'équation $y = ax + b$ est asymptote oblique à la courbe représentative de f en $+\infty$ (resp. en $-\infty$).

Exemple : Soit f une fonction définie sur \mathbb{R}^* par $f(x) = 2x - 3 - \frac{4}{x}$.

Alors $f(x) - (2x - 3) = -\frac{4}{x}$; $\lim_{x \rightarrow \pm\infty} -\frac{4}{x} = 0$. Donc la droite Δ d'équation $y = 2x - 3$ est asymptote oblique à la courbe C représentative de f en $-\infty$ et en $+\infty$.

De plus, pour tout réel $x < 0$, $-\frac{4}{x} > 0$ et pour tout réel $x > 0$, $-\frac{4}{x} < 0$.

Donc la courbe C est située au-dessus de la droite Δ sur $]-\infty; 0[$ et au-dessous de Δ sur $]0; +\infty[$.

+ suite : exo 6 de la feuille n°1

Exercice : exo 7 de la feuille n°1

Soit f une fonction définie sur $[0; +\infty[$ par $f(x) = \frac{2x^2 + 3x + 4}{x + 1}$. On note C la courbe représentative de f dans un repère orthogonal.

- Déterminer trois réels a, b, c tq $\forall x \in [0; +\infty[$, $f(x) = ax + b + \frac{c}{x + 1}$.
- Montrer que la droite Δ d'équation $y = 2x + 1$ est asymptote à C .
- Etudier la position relative de la droite Δ et de la courbe C .

3. Limite finie ou infinie d'une fonction en a ($a \in \mathbb{R}$)

Soit $a \in \mathbb{R}$ et I un intervalle contenant a ou dont a est une borne, f une fonction définie dans I sauf peut-être en a .

Définition :

On dit que la fonction f **tend vers l quand x tend vers a** ssi tout intervalle ouvert contenant l contient aussi toutes les valeurs de $f(x)$ pour tout réel x dans I et assez proche de a .

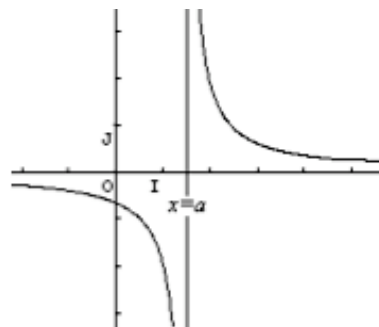
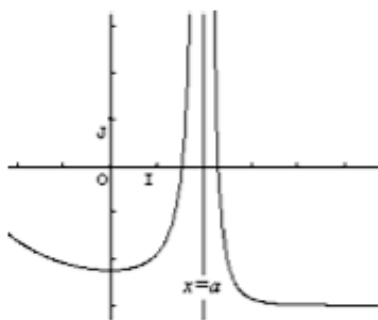
Remarque : $\lim_{x \rightarrow a} f(x) = l$ équivaut à $\lim_{h \rightarrow 0} f(a + h) = l$.

Définition :

On dit que la fonction f **tend vers $+\infty$ (resp. $-\infty$) quand x tend vers a** ssi tout intervalle $] \lambda; +\infty[$ (resp. $] -\infty; \lambda[$) ($\lambda \in \mathbb{R}$), contient toutes les valeurs de $f(x)$ pour tout réel x dans I et assez proche de a .

Lorsque $\lim_{x \rightarrow a} f(x) = +\infty$ (ou $-\infty$), la droite d'équation $x = a$ est **asymptote verticale** à la courbe représentative de f .

Exemple : Si $f(x) = \frac{1}{x - 2}$, alors $\lim_{\substack{x \rightarrow 2 \\ x > 2}} f(x) = +\infty$ et la droite d'équation $x = 2$ est asymptote verticale à la courbe représentative de f .



Dans les deux cas, la droite d'équation $x = a$ est asymptote verticale à la courbe représentative de la fonction.

Exercices : exo 1 de la feuille n°2

Déterminer les limites de la fonction $f : x \mapsto \frac{2x - 2}{x^2 + x - 2}$ en -2 et 1 . (R p 17)

+exo 2 de la feuille n°2 (étude des asymptotes de la fonction inverse à la calculatrice)

III. Propriété des limites

1. Opérations sur les limites

Dans tous les tableaux qui suivent :

- a désigne soit un réel soit $-\infty$, soit $+\infty$;
- l et l' sont des réels.
- f et g sont deux fonctions définies au voisinage de a

Limite de somme : $\lim_a f + g$

$\lim_a f$	l	l	l	$+\infty$	$+\infty$	$-\infty$
$\lim_a g$	l'	$+\infty$	$-\infty$	$+\infty$	$-\infty$	$-\infty$
$\lim_a f + g$						

Limite de produit : $\lim_a f \times g$

$\lim_a f$	l	$l > 0$	$l > 0$	$l < 0$	$l < 0$	$+\infty$	$+\infty$	$-\infty$	0
$\lim_a g$	l'	$+\infty$	$-\infty$	$+\infty$	$-\infty$	$+\infty$	$-\infty$	$-\infty$	$\pm\infty$
$\lim_a f \times g$									

Limite d'un quotient : $\lim_a \frac{f}{g}$

Cas où g a une limite non nulle :

$\lim_a f$	l	l	$+\infty$	$+\infty$	$-\infty$	$-\infty$	$\pm\infty$
$\lim_a g$	$l' \neq 0$	$\pm\infty$	$l' > 0$	$l' < 0$	$l' > 0$	$l' < 0$	$\pm\infty$
$\lim_a \frac{f}{g}$							

Cas où g a une limite nulle :

$\lim_a f$	$l > 0$	$l > 0$	$l < 0$	$l < 0$	0
$\lim_a g$	0 en restant positive	0 en restant négative	0 en restant positive	0 en restant négative	0
$\lim_a \frac{f}{g}$					

Remarque : Les mêmes tableaux sont valables pour des suites (u_n) et (v_n) de nombres réels.

Limite en l'infini d'une fonction polynomiale :

La limite en $\pm\infty$ d'une fonction polynôme est la limite de son terme de plus haut degré.

Limite en l'infini d'une fonction rationnelle :

La limite en $\pm\infty$ d'une fonction rationnelle est égale à la limite du quotient des termes de plus haut degré.

Exemples : Exos 3 - 4 - 5 de la feuille n°2, D n°40 p 61 à l'oral

Limite d'une suite particulière :

Soit q un nombre réel, on considère la suite (q^n)

Si $q > 1$, on a $\lim_{n \rightarrow +\infty} q^n = +\infty$

Si $q = 1$, on a $\lim_{n \rightarrow +\infty} q^n = 1$

Si $-1 < q < 1$, on a $\lim_{n \rightarrow +\infty} q^n = 0$

Si $q \leq -1$, la suite (q^n) diverge.

2. Limites et ordre

Théorème des gendarmes :

- Soient (v_n) et (w_n) deux suites convergeant vers le même réel l .
Si (u_n) est une suite tq à partir d'un certain rang $v_n < u_n < w_n$, alors $u_n \rightarrow l$
- a désigne soit un réel, soit $+\infty$, soit $-\infty$, l un nombre réel. Soient f, g et h trois fonctions définies sur un voisinage I de a .
Si pour tout $x \in I$, $g(x) < f(x) < h(x)$ et $\lim_{x \rightarrow a} g(x) = \lim_{x \rightarrow a} h(x) = l$, alors $\lim_{x \rightarrow a} f(x) = l$

Preuve pour les fonctions quand $x \rightarrow +\infty$:

Soit I un intervalle ouvert contenant l . Il s'agit de démontrer que I contient tous les réels $f(x)$ pour x assez grand.

$\lim_{x \rightarrow +\infty} g(x) = l$ donc I contient tous les réels $g(x)$ pour x supérieur à un certain réel A_1 .

$\lim_{x \rightarrow +\infty} h(x) = l$ donc I contient tous les réels $h(x)$ pour x supérieur à un certain réel A_2 .

On pose $A = \max\{A_1; A_2\}$.

Alors si $x > A$, l'intervalle I contient $g(x)$ et $h(x)$, donc I contient tous les réels compris entre $g(x)$ et $h(x)$, en particulier I contient $f(x)$ pour tout $x > A$.

Ainsi $\lim_{x \rightarrow +\infty} f(x) = l$

Exemple : Soit (u_n) la suite définie pour tout $n \in \mathbb{N}$ par $u_n = \frac{2n + 3(-1)^n}{n + 3}$

Exercice : n°7 de la feuille 2.

Dans les 3 propriétés suivantes, (u_n) et (v_n) désignent deux suites de réels. l et l' sont deux réels, et a désigne soit un réel, soit $+\infty$, soit $-\infty$. Enfin f et g sont deux fonctions définies sur un voisinage I de a .

Propriété 1 :

- Si $u_n \rightarrow l$, $v_n \rightarrow l'$ et $u_n < v_n$ à partir d'un certain rang, alors $l \leq l'$
- Si $\lim_{x \rightarrow a} f(x) = l$ et $\lim_{x \rightarrow a} g(x) = l'$ et pour tout x de I , $f(x) < g(x)$ alors $l \leq l'$

Propriété 2 :

- S'il existe un rang à partir duquel $u_n < v_n$ et si $v_n \rightarrow -\infty$ alors $u_n \rightarrow -\infty$
- Si pour tout réel de I $f(x) < g(x)$ et $\lim_{x \rightarrow a} g(x) = -\infty$ alors $\lim_{x \rightarrow a} f(x) = -\infty$

Propriété 3 :

- S'il existe un rang à partir duquel $u_n > v_n$ et si $v_n \rightarrow +\infty$ alors $u_n \rightarrow +\infty$
- Si pour tout réel de I $f(x) > g(x)$ et $\lim_{x \rightarrow a} g(x) = +\infty$ alors $\lim_{x \rightarrow a} f(x) = +\infty$

Preuve 1-2-3 : D act 1 p 163, n°33-35 p 60

Exercice : n°6 de la feuille 2

3. Limites d'une composée

a , l et l' désignent soit des réels, soit $+\infty$, soit $-\infty$. Soient f une fonction définie sur un voisinage I de a , g une fonction définie sur un voisinage J de l et (u_n) une suite de nombres réels.

Théorème :

- Si $\lim_n u_n = a$ et $\lim_{x \rightarrow a} f(x) = l$ alors $\lim_{n \rightarrow +\infty} f(u_n) = l$
- Si $\lim_{x \rightarrow a} f(x) = l$ et $\lim_{x \rightarrow l} g(x) = l'$ alors $\lim_{x \rightarrow a} g \circ f(x) = l'$

Preuve (admise) : Composée de fonctions dans le cas où $a = +\infty, l = -\infty, l'$ réel.

Soit J un intervalle ouvert contenant l' . Comme $\lim_{X \rightarrow -\infty} g(X) = l'$, J contient aussi toutes les valeurs de $g(X)$ pour X inférieur à un certain réel B .

Comme $\lim_{x \rightarrow +\infty} f(x) = -\infty$, l'intervalle $]-\infty; B[$ contient tous les réels $f(x)$ pour x supérieur à un certain réel C .

Si $x > C$ alors $f(x) < B$ et donc $g \circ f(x) \in J$.

Ainsi tout intervalle ouvert J qui contient l' contient aussi tous les réels $g \circ f(x)$ pour x assez grand.

Autres preuves sur le même principe. Faire le cas « composée d'une suite et d'une fonction » avec $a \in \mathbb{R}$ et $l = +\infty$ chez soi.

Exemple : Déterminer $\lim_{x \rightarrow +\infty} \sqrt{4 + \frac{1}{x^2}}$

Exercices : n°8 de la feuille 2, D 43 à 45 p61, p 62, n°67 p64...